

PRO SESF 2023

Para Bolsas do 9º Ano

Leia atentamente as instruções seguintes:

1. Utilize apenas caneta esferográfica azul ou preta, feita em material transparente.
2. Escreva seu nome completo no local indicado nesta página.
3. Escreva no local indicado na FOLHA DE RESPOSTAS a cor do seu CADERNO DE QUESTÕES.
4. Este CADERNO DE QUESTÕES contém 40 questões (10 de Língua Portuguesa, 10 de Matemática, 05 de ciências, 05 de História, 05 de Geografia e 05 de Língua Inglesa) numeradas de 01 a 40 e a Proposta de Redação.
5. Confira se a quantidade e a ordem das questões do seu CADERNO DE QUESTÕES estão de acordo com as instruções anteriores. Caso o caderno esteja incompleto, tenha defeito ou apresente qualquer divergência, comunique ao aplicador da sala para que ele tome as providências cabíveis.
6. Para cada uma das questões objetivas são apresentadas 4 opções (a, b, c, d). Apenas uma corresponde corretamente à questão.
7. O tempo disponível para estas provas é de quatro horas.
8. Reserve um tempo para marcar seu FOLHA DE RESPOSTAS. Os rascunhos e as marcações assinaladas no CADERNO DE QUESTÕES não serão considerados na avaliação.
9. Somente serão corrigidas redações transcritas na FOLHA DE REDAÇÃO.
10. Quando terminar as provas, acene para chamar o aplicador e entregue este CADERNO DE QUESTÕES e o FOLHA DE RESPOSTAS e FOLHA DE REDAÇÃO.
11. Você poderá deixar o local de prova somente após decorrida uma hora do início da aplicação e poderá levar seu CADERNO DE QUESTÕES ao deixar em definitivo a sala de prova após decorridas duas horas do início da aplicação.

Nome do aluno

TEXTO 1

GUERRA NA UCRÂNIA: RÚSSIA INVADE O PAÍS POR TERRA, AR E MAR; 137 FORAM MORTOS, E 316 ESTÃO FERIDOS.

A escalada de tensão entre Rússia e Ucrânia dos últimos dias culminou em ataques por terra, ar e mar, que começaram na madrugada desta quinta-feira (24). Dias após uma série de ameaças e de ter reconhecido a independência de duas províncias separatistas do leste ucraniano, o presidente russo, Vladimir Putin, invadiu a Ucrânia.

Cidades como Kiev e Kharkiv, as duas maiores do país, foram atacadas com mísseis e bombas. Tropas russas também desembarcaram em Odessa, que fica às margens do Mar Negro, e cruzaram a fronteira até Kharkiv. Ao menos 137 pessoas morreram e outras 316 ficaram feridas na Ucrânia após os ataques russos, disse o ministro da Saúde da Ucrânia, Oleh Lyashko.

Bombardeios continuaram na região separatista de Donetsk, segundo o vice-ministro da Defesa. Uma autoridade americana disse à agência Reuters que os russos dispararam mais de 160 mísseis contra alvos ucranianos. A Ucrânia diz que a invasão é "total".

Em resposta, Volodymyr Zelensky, presidente da Ucrânia, disse que o país reagiu, matando 50 soldados, destruindo 4 tanques russos e derrubando 6 aeronaves. Zelensky também afirmou que distribuiu armas ao povo e que o país adotou a lei marcial (quando regras militares substituem as leis civis comuns de um país).

Nas ruas da Ucrânia, as imagens mostram o cenário de caos: filas em postos de combustíveis, corridas aos supermercados por mantimentos, engarrafamentos e estações de trens lotadas. Zelensky disse ainda que seu país foi "deixado sozinho" para se defender contra a invasão russa. O líder ucraniano também convocou uma mobilização geral de todos os homens com idade entre 18 e 60 anos para se alistarem nas Forças Armadas.

A mobilização vai durar pelo menos 90 dias. Zelensky pediu que voluntários se apresentassem para trabalhar com diversos serviços e solicitou aos cidadãos que doem sangue. As autoridades ucranianas informaram que tropas russas tomaram a região onde fica o depósito de resíduos nucleares de Chernobyl. As forças russas chegaram lá depois de cruzar a fronteira da Belarus com a Ucrânia. O assessor da presidência da Ucrânia, Mykhailo Podolyak, destacou que essa é uma das ameaças mais sérias na Europa hoje.

Fonte: g1.globo.com (texto adaptado para uso nesta avaliação) Acesso em: 28/02/2022

TEXTO 2





Disponível em: <https://blogdoaftm.com.br/charge-guerra-na-ucrania/>

1- O TEXTO 1 é uma notícia. Isso se justifica porque sua finalidade é:

- Provocar uma reflexão sobre a guerra entre Ucrânia e Rússia.
- Convencer o leitor através de fatos, citações, opiniões e argumentos.
- Narrar um acontecimento desastroso ocorrido na Ucrânia e na Rússia.
- Apresentar uma informação de interesse público com imparcialidade.

2- No trecho “Desde que você fique calma, conseguiremos levar nossa conversa adiante.” a conjunção em destaque se classifica como

- Coordenada, pois a primeira oração não depende da segunda para ser sentido completo.
- Subordinada, pois a primeira oração não depende da segunda para ser sentido completo.
- Coordenada, pois a primeira oração depende da segunda para ser sentido completo.
- Subordinada, pois a primeira oração depende da segunda para ser sentido completo.

3- Sobre as afirmações assinale a incorreta.

- Predicativo do sujeito é o termo sintático que atribui uma característica ao sujeito da oração.
- A oração sem sujeito ocorre quando o predicado de uma oração não se relaciona a nenhum ser.
- Quando é possível saber quem praticou a ação expressa por um verbo em uma oração temos um sujeito indeterminado.
- O predicado verbo-nominal é composto da união de um predicado verbal com um predicado nominal.

4- No trecho: “Cidades como Kiev e Kharkiv, **as duas maiores do país**, foram atacadas com mísseis e bombas”, contido no TEXTO 1, a expressão em destaque foi colocada entre vírgulas com a intenção de:

- Esclarecer ao leitor os termos expostos anteriormente.
- Restringir os significados das cidades kiev e kharkiv.

- c) Explicar para o leitor quais cidades foram atacadas.
- d) Mostrar onde as bombas russas caíram na Ucrânia.

5- Assinale a alternativa incorreta sobre as vozes verbais

- a) Quando o sujeito é agente e paciente ao mesmo tempo dizemos que o verbo está na voz reflexiva.
- b) Quando o sujeito de uma oração é paciente, o verbo está na voz passiva, sendo que o foco da informação recai sobre o resultado e não sobre o verbo.
- c) Agente da passiva é o termo que indica o ser que pratica a ação expressa pelo verbo.
- d) Sujeito agente ocorre quando o ser pratica a ação verbal.

6- Sobre o TEXTO 1, assinale a alternativa VERDADEIRA:

- a) A guerra na Ucrânia vai durar pelo menos 90 dias.
- b) Milhares de pessoas já morreram no início da guerra.
- c) A lei marcial permite mudança na legislação do país.
- d) A Ucrânia minimizou os ataques russos no país.

7- No trecho contido no TEXTO 1 “destruindo 4 tanques russos e derrubando 6 aeronaves.”, a palavra grifada estabelece relação de:

- a) Oposição.
- b) Adição.
- c) Alternância.
- d) Explicação.

8- Assinale o trecho que apresenta uma palavra que estabelece circunstância de tempo.

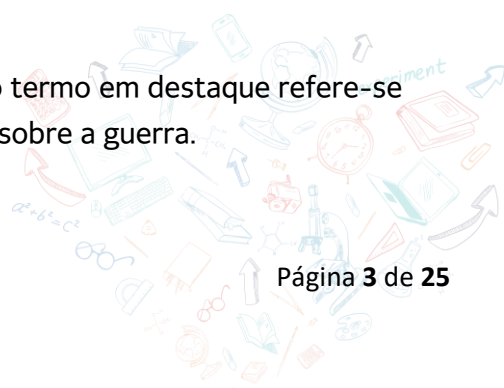
- a) “... outras 316 ficaram feridas na Ucrânia após os ataques...”
- b) “... o presidente russo, Vladimir Putin, invadiu a Ucrânia.”
- c) “... destacou que essa é uma das ameaças mais sérias...”
- d) “... uma mobilização geral de todos os homens...”

9- O uso dos dois pontos no trecho: “as imagens mostram o cenário de caos: filas em postos de combustíveis, corridas aos supermercados por mantimentos, engarrafamentos e estações de trens lotadas.” foi utilizado para:

- a) Apresentar um resumo.
- b) Delimitar um discurso direto.
- c) Mostrar alguns exemplos.
- d) Realizar uma citação.

10- Em “**Quem** será que vai ganhar?”, contido no TEXTO 2, o termo em destaque refere-se

- a) À mídia sensacionalista que a todo o momento noticia fatos sobre a guerra.
- b) Aos países que protagonizam a guerra.



- c) Aos milhares de refugiados que se instalaram na Polônia.
- d) Nenhuma das alternativas anteriores.

11- A expressão “todo mundo vai perder” em uso no TEXTO 2 quer dizer que

- a) A população mundial também sofrerá consequências com a guerra.
- b) Nenhum dos países envolvidos com a guerra tem condições de vencer.
- c) Somente a economia local tem a perder com a destruição provocada pela guerra.
- d) Outros países não serão afetados pela guerra.

12- No primeiro balão contido no TEXTO 2, a pergunta do garoto indica

- a) O desejo de que a guerra continue por muito tempo.
- b) A torcida por um dos países que protagonizam a guerra.
- c) Uma curiosidade em relação ao desfecho da guerra.
- d) A alegria em saber que todos vencerão a guerra na Ucrânia.

13- Leia, com atenção, os períodos abaixo:

- I. **Caso** haja justiça social, haverá paz.
- II. **Embora** a televisão ofereça imagens concentradas, ela não fornece uma reprodução fiel da realidade.
- III. **Como** todas aquelas pessoas estavam concentradas, não se escutou um único ruído.

Assinale a alternativa que apresenta, respectivamente, as circunstâncias indicadas pelas conjunções destacadas:

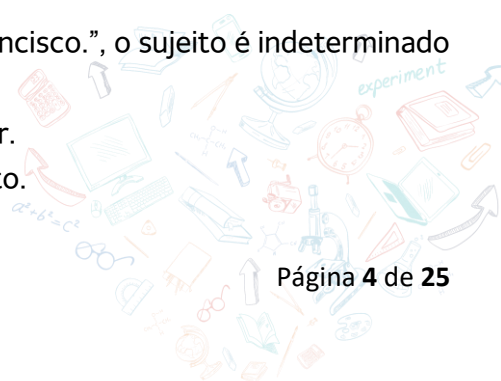
- a) Tempo, concessão, comparação.
- b) Tempo, causa, concessão
- c) Condição, concessão, causa
- d) Concessão, causa, conformidade

14- Assinale a alternativa correta em relação ao assunto abordado no TEXTO 2.

- a) Uma das consequências da guerra é a permanência de todos os habitantes nas áreas em conflito.
- b) Não há nenhum tipo de interesse em relação aos países envolvidos com essa guerra.
- c) As notícias sobre esse acontecimento não têm despertado a atenção da comunidade internacional.
- d) Milhares de pessoas foram obrigadas a sair das áreas de conflito e acabaram se refugiando em outros países.

15- Na frase “Precisa-se de colaboradores na escola São Francisco.”, o sujeito é indeterminado porque...

- a) Tem um verbo impessoal conjugado na 3.ª pessoa do singular.
- b) A partícula SE atua como partícula indeterminadora do sujeito.



- c) A partícula SE atua como partícula passivadora.
- d) Tem um verbo impessoal conjugado na 3.ª pessoa do plural.

16- Dentre os períodos abaixo, um é composto por coordenação e contém uma conjunção adversativa. Assinalar a alternativa correspondente a este período:

- a) A frustração cresce e a desesperança não cede.
- b) O que dizer sem resvalar para o pessimismo, à crítica pungente ou a auto-absolvição.
- c) É também ocioso pensar que nós, da tal elite, temos riqueza suficiente para distribuir.
- d) Em termos mundiais somos irrelevantes como potência econômica, mas ao mesmo tempo extremamente representativos como população.

17- Sobre a classificação do sujeito, estão corretas as informações:

- I. O sujeito será determinado simples quando apresentar um único núcleo, ou seja, quando o sujeito for formado por uma única palavra principal.
 - II. O sujeito será determinado composto quando apresentar dois ou mais núcleos
 - III. *Nas orações em que o sujeito é determinado desinencial, não é possível identificá-lo, pois esse não existe.*
 - IV. É possível identificar o sujeito indeterminado por meio da análise do contexto da oração ou ainda através da desinência verbal.
 - V. Existem estruturas sintáticas capazes de indeterminar o sujeito: oração com verbo na 3ª pessoa do plural ou oração com verbo na 3ª pessoa do singular acrescido do pronome *se*.
- a) I, II e V.
 - b) III e IV.
 - c) III e V.
 - d) I, II e IV.

18- Em meio às orações que seguem há a predominância da voz passiva, identifique em qual não ocorre à voz passiva analítica

- a) Móveis rústicos são fabricados nesta empresa
- b) Fabricam-se móveis rústicos nesta empresa
- c) Atrações turísticas são exploradas nesta cidade.
- d) Inúmeros obstáculos foram vencidos durante a graduação.

19- Estudamos que frase, oração e período são três conceitos essenciais da gramática. Assinale o termo que não corresponde aos termos

- a) Uma oração é um enunciado que não apresenta um sentido e uma estrutura completa.
- b) Uma oração é uma unidade sintática que indica uma ação verbal e apresenta um ou mais verbos ou locuções verbais.
- c) Um período é uma frase onde há a junção de uma ou mais orações de sentido completo. São simples ou compostos, conforme o número de orações que apresentam.

d) Uma frase é classificada de frase verbal quando apresenta um verbo na sua constituição e de frase nominal quando não apresenta um verbo na sua constituição.

20- Os dois textos desta avaliação têm em comum

- a) A intenção comunicativa.
- b) O tema em foco.
- c) O registro formal da língua escrita.
- d) A sequência textual predominante.

Matemática

21. Sendo $a = -3$ e $b = 6$, qual o valor numérico das seguintes expressões algébricas

$$10ab + 5a^2 - 3b ?$$

- A) -153
- B) 125
- C) -155
- D) 153

22. Em um parque aquático, paga-se um ingresso de R\$: 25,00 para entrar e mais R\$: 15,00 por brinquedo utilizado. Descreva uma expressão que represente quanto uma pessoa pagará se andar em x brinquedos diferentes.



- A) $P = 25 + 25X - 15$
- B) $P = 15 + 25X$
- C) $P = 25 + 15X$
- D) $P = 15 - 25X - 15$

23. Na adição dos seguintes polinômios $(5x^2 - 2ax + a^2) + (-3x^2 + 2ax - a^2)$ temos como resultado?

- A) $5x^2 + ax$
- B) $ax - 3a^2$
- C) $2x^2$
- D) $3x^2 - 2ax + 3a^2$

24. A prefeita Conceição, cobra dos comerciantes de sua cidade um imposto calculado pela seguinte fórmula matemática $I = 120 + 0,02L$. Nessa fórmula, "I" representa o valor do imposto

arrecadado pela prefeitura e "L", o lucro do comerciante. Qual é o valor arrecadado pela prefeitura, se o comerciante obteve, no mês, um lucro de R\$ 10 000,00 ?

- A) R\$ 320,00
- B) R\$ 125,00
- C) R\$ 484,00
- D) R\$ 245,00

25. Um lote quadrado possui 2116 m² de área. Qual é a medida do perímetro desse lote?

- a) 144 m
- b) 142 m
- c) 244 m
- d) 184 m

26. Em uma multiplicação de polinômios o que devemos fazer com os expoentes das partes literais semelhantes?

- A) Somar
- B) Diminuir
- C) Multiplicar
- D) Dividir

27. Durante uma aula o professor Cleyton decidiu revisar com seus alunos os produtos notáveis. Então, ele escreveu no quadro as seguintes expressões:

I → $(x - 2)(x + 2)$

II → $(x + 3)^2$

III → $(x - 2)^2$


Os produtos notáveis listados pelo professor são conhecidos, **respectivamente**, como:

- A) Quadrado da diferença, quadrado da soma e cubo da diferença.
- B) Produto da soma pela diferença, quadrado da soma e quadrado da diferença.
- C) Trinômio quadrado perfeito, cubo da soma, cubo da diferença.
- D) Quadrado da soma, produto da soma pela diferença e cubo da diferença.

28. Durante os estudos de cálculo 1, um matemático se deparou com a seguinte expressão: $(g + a)(g - a)$, vendo-se diante de um produto notável conhecido como o produto da soma pela diferença. A solução desse produto notável é sempre igual ao:

- A) quadrado do primeiro termo, mais duas vezes o primeiro, vezes o segundo termo, mais o quadrado do segundo termo.
- B) quadrado do primeiro termo, menos duas vezes o primeiro, vezes o segundo termo, mais o quadrado do segundo termo.
- C) quadrado do primeiro termo menos o segundo termo.
- D) quadrado do primeiro termo menos o quadrado do segundo termo.

29. Uma chapa de aço inox quadrada tem suas dimensões representada por um binômio (Veja a figura).



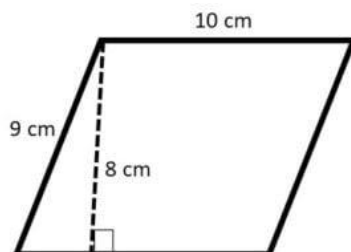
Qual seria a área de chapa representada por um polinômio?

- A) $3a^2 - 15ab + 5b$.
- B) $9a^2 - 30ab + 25b^2$.
- C) $9a^2 + 30ab + 25b^2$
- D) $9a^2 + 30ab + 25$

30. Se uma praça possui 3136 m^2 de área e comprimento de 56 m . Com qual figura geométrica essa praça se parece?

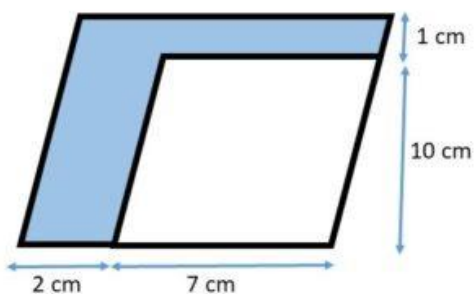
- A) Retângulo
- B) Triângulo
- C) Paralelogramo
- D) Quadrado

31. Qual a área do paralelogramo com as dimensões apresentadas na figura abaixo:



- A) 72 cm^2
- B) 90 cm^2
- C) 100 cm^2
- D) 80 cm^2

32. Qual a área da superfície colorida da figura abaixo:



- A) 19 cm^2

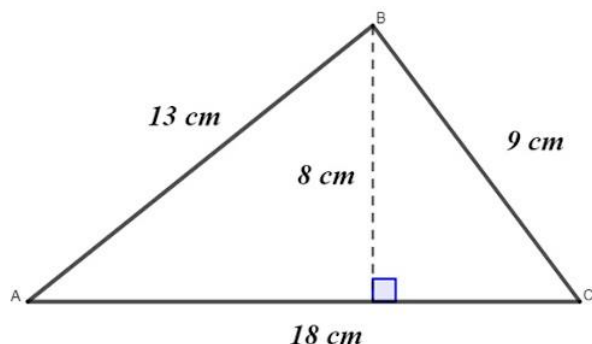


- B) 28 cm^2
- C) 29 cm^2
- D) 18 cm^2

33. Um triângulo tem uma área de 120 m^2 e uma altura de 20 m . Qual é o comprimento de sua base?

- a) 12 m
- b) 10 m
- c) 11 m
- d) 13 m

34. Analise o polígono a seguir:



A área desse triângulo é igual a:

- A) 36 cm^2
- B) 72 cm^2
- C) 64 cm^2
- D) 52 cm^2

35. Ao dobro de um número adicionamos 12 e o resultado é igual à metade do mesmo número, aumentado de 108. Qual é o número procurado?

- A) 65
- B) 78
- C) 70
- D) 64

36. Um terreno de 920 m^2 de área foi reservado para a construção de um escola. Essa escola deverá ter 10 salas de aula, todas com a mesma área, e um pátio de 320 m^2 . Qual deverá ser a área de cada sala de aula?

- A) 30 m^2
- B) 40 m^2
- C) 60 m^2
- D) 65 m^2



37. Numa fazenda há ovelhas e avestruzes, totalizando 90 cabeças e 260 patas. Comparando-se o número de avestruzes com o das ovelhas, pode-se afirmar que há:



- A) igual número de ovelhas e de avestruzes.
- B) dez cabeças a mais de ovelhas.
- C) dez cabeças a mais de avestruzes.
- D) oito cabeças a mais de ovelhas.

38. Em uma praça há 18 crianças andando de bicicleta ou de skate. No total, há 50 rodas girando pela praça. Quantas crianças andam de bicicleta e quantas andam de skate?

- A) 7 crianças andando de skate e 11 crianças andando de bicicleta.
- B) 13 crianças andando de skate e 5 crianças andando de bicicleta.
- C) 10 crianças andando de skate e 8 crianças andando de bicicleta.
- D) 9 crianças andando de skate e 9 crianças andando de bicicleta.

39. Deseja-se pregar uma fita decorativa ao redor da tampa de um pote redondo. Se o raio da tampa mede 12 cm, qual o comprimento mínimo que a fita deve ter para dar a volta completa na tampa?



- A) 25,6 cm
- B) 94,56 cm
- C) 52,3 cm
- D) 75,36 cm

40. A roda de um ônibus tem 120 cm de diâmetro. Que distância o ônibus terá percorrido quando a roda der 350 voltas, sendo $\pi = 3$, aproximadamente?



- A) 1,2 Km



- B) 1,3 Km
- C) 12,6 Km
- D) 126 km

CIÊNCIAS

41. O sistema circulatório, é responsável por distribuir o sangue pelo corpo humano. Assinale a alternativa que NÃO apresenta uma função do sistema cardiovascular.

- a) Eliminação de excreções
- b) Distribuição de mecanismos de defesa
- c) Produção de hormônios
- d) Transporte de nutrientes

42. Sobre o revestimento do corpo humano, marque uma alternativa que indique uma função que não pode ser atribuída a pele.

- a) Barreira protetora corpos estranhos
- b) Captação de estímulos de dor, tato, luz e temperatura.
- c) Proteção contra a perda excessiva de água.
- d) Proteção contra atrito.

43. A derme é a camada intermediária da pele, fica entre a epiderme e a tela subcutânea. Sobre essa camada, assinale a alternativa correta.

- a) Na derme, localizam-se os vasos sanguíneos, os nervos relacionados ao sentido do olfato e estruturas anexas.
- b) Os pelos são estruturas anexas, sua principal função está relacionada ao tato.
- c) As glândulas secretam substâncias, as glândulas ceruminosas secretam cerume, ou cera que, junto aos pelos da orelha, forma uma barreira contra a entrada de corpos estranhos.
- d) As glândulas secretam substâncias, as glândulas sudoríferas secretam cerume, ou cera que, junto aos pelos da orelha, forma uma barreira contra a entrada de corpos estranhos.

44. Na camada derme da pele, podemos encontrar algumas estruturas chamadas de estruturas anexas, como unha, pelo e glândulas. Sobre a função das glândulas estudadas, marque a alternativa correta.

- a) A glândula sebácea produz uma substância oleosa chamada de sebo, que atua na regulação da temperatura e na eliminação de impurezas.
- b) As glândulas sudoríparas são responsáveis por eliminar o suor, que aumenta a temperatura do corpo.
- c) A glândula ceruminosa impede o ressecamento do pelo e da pele, mantendo-a macia, e atua como barreira contra microrganismos.

d) A glândula sudorífera é importante na regulação da temperatura e na eliminação de algumas impurezas.

45. O Sistema nervoso central é a parte do organismo que transmite sinais entre as suas diferentes partes e coordena as suas ações voluntárias e involuntárias. **ASSINALE A ALTERNATIVA FALSA a respeito desse sistema.**

- a) O Sistema nervoso é dividido em duas partes, são elas a parte central e periférica.
- b) A parte central do sistema nervoso central é formada pelo encéfalo e pela medula espinhal.
- c) A parte periférica do sistema nervoso é formada por gânglios e por tendões.
- d) A parte periférica do sistema nervoso é formada por gânglios e nervos.

46. O axônio é uma parte do neurônio responsável pela condução dos impulsos elétricos que partem do corpo celular, até outro local mais distante. Nele encontra-se a bainha de mielina, sua função é:

- a) Reprodução dos neurônios.
- b) Conexão entre os neurônios.
- c) Proteção e aumenta a velocidade de condução dos impulsos nervosos.
- d) É a região do neurônio onde se localiza o núcleo.

47. Analise as alternativas a seguir e marque aquela que **NÃO** descreve uma função do sistema nervoso:

- A) captar e interpretar estímulos do ambiente.
- B) transportar informações.
- C) controlar a atividade dos músculos
- D) transportar nutrientes e oxigênio para o corpo.

48. Assinale a alternativa correta a respeito dos elementos cruciais que compõe um circuito elétrico.

- a) Uma fonte de energia, uma bateria e um condutor.
- b) Uma fonte de energia, um condutor e um dispositivo.
- c) um condutor, um material isolante e um dispositivo.
- d) uma fonte de energia, um interruptor e um dispositivo

49. Assinale a alternativa correta a respeito do dispositivo utilizado para medir a diferença de potencial ou tensão elétrica.

- a) decibéis
- b) voltaginetro
- c) voltímetro
- d) dosímetro

50. Ao entrar em contato com o corpo humano, a corrente elétrica produz diversos efeitos. Entre eles, um em específico faz com que os músculos se contraíam. Isso se trata do efeito

- a) térmico

- b) magnético
- c) químico
- d) fisiológico

HISTÓRIA

51. Foi um movimento filosófico e intelectual desenvolvido no século XVII, na Europa. Esse movimento valorizava o pensamento racional porque acreditavam que a razão deveria iluminar a sociedade daquela época. Esse movimento ficou como:



- a) O Renascimento.
- b) O Iluminismo.
- c) Reforma religiosa.
- d) O Imperialismo.

52. Sistema socioeconômico que passou a vigorar a partir da Revolução Industrial. É caracterizado pela divisão da sociedade em classes (operários e Burgueses) e pela economia voltada ao lucro e ao livre mercado.

- a) Capitalismo.
- b) Manufatura.
- c) Capitalismo Industrial.
- d) Imperialismo.

53. Época em que o Brasil foi governado por Dom Pedro I. O período foi marcado por políticas autoritárias e pela insatisfação da população com o imperador. Período ficou conhecido por:

- a) Período Regencial.
- b) Segundo Reinado.
- c) Primeiro Reinado.
- d) Proclamação da Republica.

54. Durante o processo de independência do Brasil, o grande conselheiro de D. Pedro I foi:



- a) Cipriano Barata.
- b) Lorde Cochrane.
- c) Evaristo da Veiga.
- d) José Bonifácio.

55. Depois de estabelecida a autonomia política do Brasil, foi necessário criar símbolos nacionais, uma série de instituições e órgãos administrativos e um conjunto de leis para o novo Estado que surgia. Por esse motivo, uma das primeiras ações de Dom Pedro I no governo foi criação de uma Assembleia Constituinte para elaborar a constituição do Império.

- a) A Constituição de 1824.
- b) A Constituição de 1828.
- c) A Constituição de 1988.
- d) A Constituição de 1989.

56. São formados por iniciativas condições de vida, pela garantia de direitos e também contra o autoritarismo dos governantes. Os movimentos de contestação podem envolver revoltas, lutas armadas, protestos, manifestações, boicotes, entre outros, atos políticos.

- a) Revoltas.
- b) Movimentos de Contestação.
- c) Contestação ao governo.
- d) Golpe Militar.

57. “O período regencial foi um dos mais agitados da história política do país e também um dos mais importantes. Naqueles anos, esteve em jogo a unidade territorial do Brasil, e o centro do debate político foi dominado pelos temas da centralização ou descentralização do poder, do grau de autonomia das províncias e da organização das Forças Armadas.”

(FAUSTO, Boris. HISTÓRIA DO BRASIL. 2 ed. São Paulo: EDUSP, 1995. p. 161.).

Sobre as várias revoltas nas províncias durante o período da Regência, podemos afirmar corretamente que:

- a) Podem ser vistas como respostas à política centralizadora do Império, que restringia a autonomia financeira e administrativa das províncias.
- b) A principal delas foi a Revolução Farroupilha, acontecida nas províncias do nordeste, que pretendia o retorno do Imperador D. Pedro I.
- c) Eram levantes republicanos em sua maioria, que conseguiam sempre empolgar a população pobre e os escravos.

d) Em sua maioria, eram revoltas lideradas pelos grandes proprietários de terras e exigiam uma posição mais forte e centralizadora do governo imperial.

58. A ideia começou a ganhar força entre os políticos como forma de centralizar o poder e garantir estabilidade do país. Assim em junho de 1840, foi instituído o chamado Golpe da Maioridade, que colocava Dom Pedro II no comando do governo imperial. Qual seria a idade que Dom Pedro assumiu?



- a) 13 anos.
- b) 15 anos.
- c) 17 anos.
- d) 14 anos.

59. A expansão da economia do café para o Oeste Paulista, na segunda metade do século XIX, e a grande imigração para a lavoura de café trouxeram modificações na história do Brasil, como:

- a) A diversificação econômica e o avanço do processo de urbanização.
- b) O fortalecimento da economia de subsistência e a manutenção da escravidão.
- c) A divisão dos latifúndios no Vale do Paraíba e a crise da economia paulista.
- d) O fim da república oligárquica e o crescimento do movimento camponês.

60. Condutas de dominação econômica política, social, e cultural praticadas por países da Europa, Estados Unidos e Japão ao longo dos séculos XIX e XX. Essa prática ficou conhecida como:



- a) Capitalismo.
- b) Imperialismo.

- c) Liberalismo.
- d) Iluminismo.

GEOGRAFIA

61. “Repleta de contrastes, a África apresenta mais diversidade étnica do que qualquer outro continente. A riqueza natural e os contrastantes aspectos populacionais, envolvendo cultura e condições socioeconômicas são elementos fundamentais para a compreensão desse continente “.

Assinale a assertiva correta sobre o continente africano e o colonialismo:

- a) A África foi dividida entre as potências europeias e os Estados Unidos, que estabeleceram fronteiras artificiais no continente;
- b) A África foi dividida pelas potências europeias de acordo com os interesses delas, tendo suas fronteiras culturais desconsideradas;
- c) A África foi dividida pelas potências europeias, mas as fronteiras culturais foram mantidas;
- d) A África foi dividida entre as potências europeias e a China, que mantiveram as fronteiras no continente;

62. Preencha os espaços vazios com I para as afirmações referentes a África Islâmica e S para as afirmações da África Subsaariana:

- () População majoritariamente mulçumana e de origem árabe.
- () Região ao sul do deserto do Saara.
- () População cujo idioma oficial, em geral, é o árabe.
- () Grande diversidade étnica e religiosa.
- () Região ao norte do Saara.
- () População majoritariamente de pele negra.

A sequência correta é:

- a) S - S - I - S - I - S
- b) I - I - S - I - S - I
- c) I - S - I - S - I - S
- d) S - I - S - I - S - I

63. A configuração planetária atual é resultado de milhões de anos de transformação. Esses rearranjos são constantes e, portanto, pode-se compreender que nada é estático quanto ao nosso planeta. Leia atentamente cada assertiva e marque a que destoa:

- a) A grande massa rochosa que formava os continentes terrestres compunha um único bloco de rochas – *pangeia*, que foi se fragmentando e se movimentando no decorrer de milhões de anos.
- b) As placas tectônicas estão sempre se deslocando em diferentes direções, muito embora muito lentamente, cerca de 20 a 30 milímetros por ano.
- c) Para confirmar a teoria da Deriva Continental, Alfred Wegener propôs tal teoria considerando como uma das evidências o formato da costa da África e da Ásia.
- d) A existência de fósseis de plantas e animais da mesma espécie em lugares diferentes são outros pontos que ratificam a teoria da deriva continental.

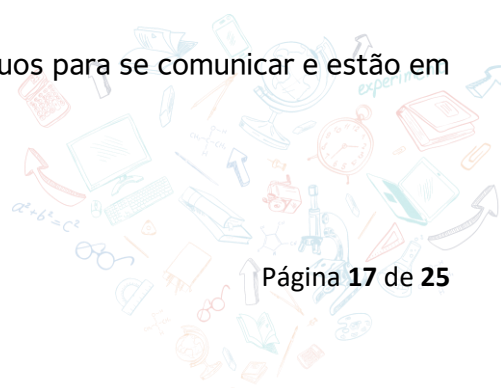
64. A movimentação das placas litosféricas é responsável por transformações ocorridas na configuração dos continentes terrestres, e dessa forma, a desintegração desse grande continente é que dá tal desenho planetário.

Assinale a opção incorreta:

- a) Há cerca de 150 milhões de anos, a Terra encontrava-se dividida em dois grandes continentes: Laurásia ao norte, e Gondwana, ao sul.
- b) Por meio das formações rochosas da África e da América do Sul se constatou a Teoria da Deriva Continental.
- c) Com a constante movimentação das placas tectônicas, a África se chocará com a Oceania em aproximadamente 50 milhões de anos.
- d) As correntes de convecção são responsáveis pela movimentação das placas tectônicas, provocando a colisão ou o afastamento entre elas.

65. “De modo geral, a cultura envolve elementos como a língua que falamos, as receitas culinárias que aprendemos, os objetos fabricados, estilos dos edifícios, a religião e as vestimentas. Também fazem parte de nossa cultura outros aspectos do nosso cotidiano, expressado de diferentes formas e usos”. Assim sendo, o conceito incorreto está presente em:

- a) *Identidade cultural*: grupos de pessoas eu compartilha crenças, hábitos e outros elementos culturais.
- b) *Estado*: conjunto de instituições políticas e administrativas que organizam os aspectos do território de um povo ou de nação e sua relação com o mundo.
- c) *Território*: linha imaginária, em geral estabelecida por convenção que indica onde termina e se inicia.
- d) *Língua*: sistema de signos utilizados por um grupo de indivíduos para se comunicar e estão em constante transformações.



69. O crescimento econômico acentuado da economia de alguns países, verificado principalmente durante a segunda metade do século XX e o início do século XXI, não se deu em todos os Estados, uma vez que as desigualdades socioeconômicas são latentes. Dessa forma, e em detrimento dos sistemas vigentes os países possuem realidades distintas.

Sabendo disso, analise as afirmações a seguir e assinale a incorreta:

- a) A desigualdade pode ser expressa nas condições de moradia e na infraestrutura.
- b) As regiões mais desiguais no mundo contemporâneo são Sul da Ásia, África Subsaariana e América Latina.
- c) Para avaliar um país é necessário a análise de vários indicadores, como o IDH, PNB, PIB, dentre outros, esse último é o que melhor expressa tal realidade.
- d) Nas últimas décadas, a economia internacional presenciou a ascensão de países subdesenvolvidos que são considerados emergentes: Brasil e Índia são exemplos.

70. O espaço geográfico vem sendo transformado pelo ser humano ao longo do tempo. O avanço das técnicas, a aproximação com a natureza, além das mudanças no modo de vida e nas formas de trabalho, por exemplo, permitiram ao ser humano ocupar a superfície terrestre e estabelecer-se nos mais diferentes territórios. São exemplos de tal realidade, exceto:

- a) A ocupação humana e transformação são aferidos por meio de intencionalidades;
- b) Ao longo da história foi necessário o desenvolvimento de conhecimento, instrumentos e habilidades que permitiram sua sobrevivência;
- c) A presença humana se dá em todos os lugares do planeta Terra, independente das condições e isso é facilitado pelo desenvolvimento das técnicas;
- d) A disseminação das técnicas e dos avanços tecnológicos ocorreu de maneira desigual no espaço geográfico;

LÍNGUA INGLESA

71. Sobre as formas comparativa e superlativa dos adjetivos estão corretas as seguintes afirmações:

I - Quando terminadas em -EST se trata do superlativo, que compara duas características.

II - Quando tem 3 sílabas ou mais podemos escolher entre more ou -er como sufixo e most e -est como sufixo

III - More é utilizado para o superlativo de 2 ou mais sílabas

IV - Most é utilizado para o superlativo de 2 ou mais sílabas

- a) Todas estão corretas

- b) Todas estão incorretas
- c) Apenas II está correta
- d) Apenas IV está correta

72. Analise os 3 meios de locomoção e assinale a alternativa que descreve corretamente todas características entre eles:



- I - The airplane is the fastest of them
 - II - The car is the heaviest
 - III - The bike is cheaper than the airplane
 - IV - The the car is the most common to have at home
- a) I, III, e IV estão corretas
 - b) Todas estão corretas
 - c) I, II e III estão corretas
 - d) Apenas a I está correta

73. Escolha a alternativa apenas com Irregular verbs.

- a) Walk - Run - Paint - Travel
- b) Sit - Buy - Build - Begin
- c) Begin - Become - See - Watch
- d) Eat - Jump - Sleep - Live

74. Como ficaria a seguinte frase na voz passiva do inglês?

The man invented the wheel in 3500 AC.

- a) In 3500 AC, the man was invented by the wheel.
- b) The wheel was invented by the man, in 3500 AC.
- c) In 3500 AC, the man invented the wheel.
- d) In 3500 AC, the wheel invented the man.

75. Como ficaria a seguinte frase na voz passiva do inglês?

Kevin Systrom created instagram in April 2012.

- a) In April, Kevin Systrom created Instagram in 2012.
- b) In April, The instagram was created by Kevin Systrom in 2012.
- c) In April 2012, The instagram created by Kevin Systrom.
- d) In April 2012, The instagram was created by Kevin Systrom.

76. Qual frase está com o uso correto do "Will"?

- a) Will Smith stars in a new movie.
- b) Will Smith was starred by a will movie.
- c) Will Will Smith star a new movie?



d) Will Will Smith the oscar?

77. Marque a alternativa que completa corretamente a frase: She _____ her homework, when her best friend _____ and they _____ the studies to listen to music.

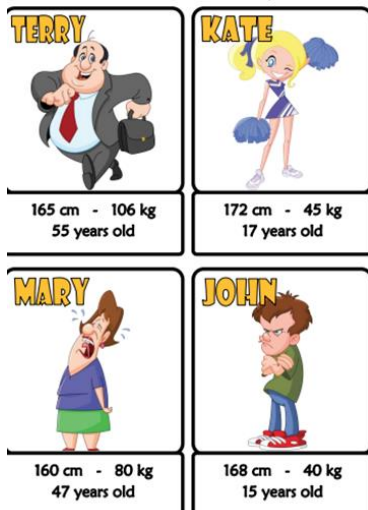
- a) Were doing - Arrived - Stopped
- b) Was doing - Arrived - Stopped
- c) Was doing - Was arriving - Was stopping
- d) Did - Arrived - Stopped

78. Como seria a seguinte frase na voz ativa:

In 2015, the movie Avengers: Age of Ultron was released by Marvel.

- a) In 2015, the movie Avengers: Age of Ultron released Marvel
- b) Marvel released the movie Avengers: Age of Ultron, in 2015
- c) The movie Avengers: Age of Ultron released was by Marvel, in 2015
- d) In 2015, Marvel was released by Avengers: Age of Ultron


79. Analise a seguinte imagem e selecione a alternativa que representa melhor as características descritas:



- a) John is taller than terry, but shorter than Mary
- b) Kate is the tallest and the heaviest
- c) Mary is the oldest
- d) John is the youngest and shorter than Kate

80. Assinale a alternativa que contém apenas adjetivos no superlativo e no comparativo escritas incorretamente.

- a) Faster, Smaller, Smallest
- b) Flatter, Fastest, Bigger
- c) Biger, Fater, Largger
- d) Younger, Youngest, Tallest



TEXTO 1

Os impactos sociais e ambientais de uma guerra são múltiplos e não têm sido devidamente dimensionados.

O planejamento militar objetiva destruir infraestrutura, cadeias de suprimento e provocar pânico e caos no terreno adversário. O adversário somos nós. Tudo o que a humanidade tenta construir a guerra desconstrói. O desenvolvimento passa a ser visto do lado avesso.

A proteção parcial dos civis, por motivos humanitários, evita que a população seja alvo direto. Mas os impactos indiretos provocam sofrimento a todos, sejam crianças ou idosos, sem contar os jovens soldados, de lado a lado. Vidas são perdidas precocemente aos milhares, como está ocorrendo na Ucrânia, além dos casos de mutilação e lesões irreversíveis.

A população sofre ainda impactos com perda de saúde e qualidade de vida. O sofrimento diante da perda de nacionalidade, das referências geográficas, da história, o isolamento, no êxodo dos refugiados, nas perdas e na distância de entes queridos, de amigos e de vizinhos, acaba sendo inevitável. Não há guerra sem perda e sem dor.

<https://diplomatie.org.br>

TEXTO 2



<https://www.otempo.com.br/super-noticia>

PROPOSTA DE PRODUÇÃO TEXTUAL

Com base na leitura dos textos motivadores, redija um texto dissertativo-argumentativo escrito na norma padrão da língua portuguesa, sobre o tema ***Os impactos socioculturais causados pela guerra***, apresentando de maneira clara e objetiva seu posicionamento.

Organize e relacione de forma coesa e coerente os fatos, citações, dados e argumentos para defesa do seu ponto de vista.

RASCUNHO DA REDAÇÃO

01	
02	
03	
04	
05	
06	
07	
08	
09	
10	
11	
12	
13	
14	
15	
16	
17	
18	
19	
20	
21	
22	
23	
24	
25	
26	
27	
28	
29	
30	

